




CHESTIONARUL NR 6

1	<p>Conducătorul de autobuz are voie să depășească pe un altul oprit în stație?</p> <p>a) da, cu viteză redusă; b) da, numai dacă autobuzul depășit este oprit într-o stație prevăzută cu alveolă; c) da, dacă lățimea drumului este de cel puțin 7 m;</p>
2	<p>În ce cazuri se aplică măsura reținerii plăcilor cu numerele de înmatriculare ale unui autovehicul?</p> <p>a) când certificatul de înmatriculare este deteriorat; b) când aspectul estetic al autobuzului este necorespunzător; c) când plăcile de înmatriculare sunt deteriorate ori nu sunt conforme cu standardul;</p>
3	<div style="display: flex; align-items: center;">  <div style="margin-left: 20px;"> <p>Cum trebuie să procedeze conducătorul autobuzului care, intenționând să schimbe direcția de mers la stânga, întâlnește indicatorul însoțit de semnul adițional?</p> <p>a) execută manevra, deoarece în acest caz are prioritate față de celelalte vehicule; b) se va deplasa pe direcția înainte ori la dreapta, deoarece semnalizarea nu îi permite accesul către stânga; c) se asigură, semnalizează și după caz cedează trecerea vehiculelor care se apropie din sens opus și pietonilor angajați în traversare pe strada pe care urmează să intre;</p> </div> </div> <div style="margin-top: 10px;">  </div>
4	<p>Se interzice circulația pe drumurile publice a autovehiculelor, dacă acestea depășesc limita legală admisă cu privire la:</p> <p>a) zgomotul la pornire; b) zgomotul în mers sau staționare; c) zgomotul în suprasarcină;</p>
5	<div style="display: flex; align-items: center;">  <div style="margin-left: 20px;"> <p>Conducătorul autobuzului este surprins de schimbarea semnalului semaforului, după ce a pătruns în intersecție. În acest caz trebuie:</p> <p>a) să oprească și să aștepte apariția semnalului verde; b) să lase să treacă autoturismul "1", după care să-și continue deplasarea; c) să-și continue deplasarea, deoarece are prioritate de trecere față de autovehiculele care urmează să intre în girajie;</p> </div> </div>

6	<p>Cum procedați când vă apropiați de o intersecție semaforizată, iar semnalul de culoare galbenă funcționează intermitent?</p> <ul style="list-style-type: none">a) acordați prioritate de trecere tuturor vehiculelor care se apropie de intersecție;b) măriți viteza și traversați rapid intersecția pentru a nu fi surprins de lumina roșie a semaforului;c) reduceți viteza, respectați semnalizarea și regulile de circulație aplicabile pentru acea zonă;
7	<p>Ce obligații vă revin la punerea în mișcare din stații?</p> <ul style="list-style-type: none">a) nu aveți nici o obligație, deoarece autovehiculul pe care îl conduceți face parte din categoria serviciilor regulate de transport public de persoane;b) să nu porniți din stație înainte de urcarea și coborârea călătorilor și luarea măsurilor de precauție necesare pentru a evita orice situație periculoasă previzibilă;c) să semnalizați această manevră;
8	<p>Cum trebuie să procedați la întâlnirea tramvaielor aflate în mers?</p> <ul style="list-style-type: none">a) vă continuați deplasarea în paralel cu acestea;b) păstrați în mers, o distanță de cel puțin 5 m față de ultimul vagon;c) le acordați prioritate de trecere;
9	<p>Care este limita maximă de viteză permisă de lege, pentru autobuze, în localități?</p> <ul style="list-style-type: none">a) 70 km / h;b) 60 km / h;c) 50 km / h;
10	<p>Uzura pronunțată a mijlocului benzii de rulare se datorează:</p> <ul style="list-style-type: none">a) rulării cu presiune mai mică decât cea recomandată;b) rulării cu presiune mai mare decât cea recomandată;c) conducerii cu viteză mare;
11	<p>Conducătorii autobuzelor sunt obligați să circulați cu o viteză care să nu depășească 30 km/h în localități sau 50 km/h în afara acestora;</p> <ul style="list-style-type: none">a) în zona de acțiune a indicatorului " Copii" în intervalul orar 07-22;b) când trec pe lângă animale care sunt conduse pe acostament sau partea carosabilă;c) pe drumuri cu denivelări, semnalizate ca atare;