




## CHESTIONARUL Nr. 17

1	<p>Conducătorilor de autovehicule care transportă încărcături periculoase le este interzis:</p> <ul style="list-style-type: none"> <li>a) să circule pe timpul nopții;</li> <li>b) să remorcheze alte vehicule rămase în pană;</li> <li>c) să circule în condiții de ceață sau vizibilitate redusă;</li> </ul>
2	<p>Priviți imaginea alăturată. Ce obligații revin conducătorului autocamionului depășit?</p>  <ul style="list-style-type: none"> <li>a) să atenționeze motociclistul că nu are voie să efectueze depășirea;</li> <li>b) să reducă viteza și să păstreze poziția;</li> <li>c) să nu mărească viteza de deplasare și să se angajeze cât mai aproape de bordură;</li> </ul>
3	<p>Persoana care posedă permis valabil pentru categoria "C" are dreptul să conducă autovehicule:</p> <ul style="list-style-type: none"> <li>a) altele decât cele din categoria "D", a căror masă totală maximă autorizată este mai mare de 3500 kg;</li> <li>b) destinate transportului de bunuri și persoane având masa mai mică de 3500 kg;</li> <li>c) destinate transportului de persoane având masa mai mare de 3500 kg;</li> </ul>
4	<p>În situația din imaginea alăturată autocamionul execută corect depășirea motocicletei?</p>  <ul style="list-style-type: none"> <li>a) da, deoarece există spațiu suficient;</li> <li>b) nu, deoarece nu a semnalizat efectuarea manevrei;</li> <li>c) nu, deoarece axul drumului este marcat cu o linie continuă;</li> </ul>
5	<p>Indicatorul alăturat arată că:</p>  <ul style="list-style-type: none"> <li>a) drumul are o bandă suplimentară destinată circulației vehiculelor lente;</li> <li>b) circulația este dirijată pe primul drum la dreapta;</li> <li>c) primul drum la dreapta este întrerupt;</li> </ul>

6	<p>Se interzice circulația pe drumurile publice a autovehiculelor, dacă acestea depășesc limita legală admisă cu privire la:</p> <ul style="list-style-type: none"><li>a) zgomotul la pornire;</li><li>b) zgomotul în mers sau staționare;</li><li>c) zgomotul în suprasarcină;</li></ul>
7	<p>Care dintre următorii factori influențează spațiul de frânare al autovehiculului?</p> <ul style="list-style-type: none"><li>a) viteza autovehiculului, aderența la sol și timpul de reacție al șoferului;</li><li>b) greutatea autovehiculului, uzura pneurilor, timpul de reacție al șoferului;</li><li>c) diametrul roților, viteza autovehiculului, numărul de roți;</li></ul>
8	<p>Care din următoarele defecțiuni poate determina blocarea unei roți în timpul mersului?</p> <ul style="list-style-type: none"><li>a) griparea rulmentului;</li><li>b) uzura excesivă a saboților;</li><li>c) ovalizarea tamburului;</li></ul>
9	<p>Uzura unei anvelope, pe una dintre marginile benzii de rulare, se datorează:</p> <ul style="list-style-type: none"><li>a) dereglării geometriei direcției roților;</li><li>b) rulării cu presiune scăzută;</li><li>c) rulării cu presiune ridicată;</li></ul>
10	<p>Aplicarea sancțiunii contravenționale și retragerea certificatului de înmatriculare a unui autovehicul se dispun atunci când:</p> <ul style="list-style-type: none"><li>a) ștergătoarele de parbriz sunt deteriorate;</li><li>b) sistemul de închidere automată a ușilor nu funcționează;</li><li>c) anvelopele au alte dimensiuni sau caracteristici decât cele prevăzute în cartea de identitate;</li></ul>
11	<p>La remorcile având o singură conductă de legătură, pentru frâna de serviciu aceasta asigură:</p> <ul style="list-style-type: none"><li>a) alimentarea cu aer a pistonului de frânare;</li><li>b) frânarea remorcii în caz de rupere a remorcii;</li><li>c) alimentarea cu aer sub presiune și frânarea remorcii în caz de rupere a conductei;</li></ul>