




CHESTIONARUL Nr. 10

1	<p>Care este ordinea de trecere a celor trei vehicule ajunse simultan în intersecția din imaginea alăturată:</p>  <p>a) bicicleta, autocamionul, motocicletă; b) bicicleta, motocicletă, autocamionul; c) motocicletă, bicicleta, autocamionul;</p>
2	<p>Încărcăturile periculoase se transportă:</p> <p>a) numai în remorci; b) numai în autovehiculele care îndeplinesc condițiile tehnice și de agreere stabilite de autoritatea competentă; c) numai în autovehicule având o stare corespunzătoare;</p>
3	<p>Conducătorul autodubei a oprit în mod regulamentar?</p>  <p>a) da, deoarece în zonă nu există nici o restricție de circulație; b) nu, deoarece trebuia să oprească în întregime pe trotuar; c) nu, deoarece spațiul lăsat față de troleibuz nu mai permite trecerea simultană a două vehicule care vin din sensuri opuse;</p>
4	<p>Indicatorul alăturat vă interzice să pătrundeți cu autocamionul dacă:</p>  <p>a) masa acestuia depășește valoarea indicată; b) masa pe osia dublă depășește valoarea indicată; c) masa pe osie depășește valoarea indicată;</p>
5	<p>Care este viteza maximă admisă, în localități, a unui ansamblu format dintr-un autovehicul din categoria "C" și o remorcă?</p> <p>a) 60 km/h b) 50 km/h c) 40 km/h</p>

6	<p>Rateurile în galeriile de admisie și evacuare se produc datorită:</p> <ul style="list-style-type: none">a) supraîncălzirii motorului;b) jocul prea mic dintre culbutori și supape;c) supraturării motorului;
7	<p>Pe axul rolei din angrenajul casetei de direcție se montează:</p> <ul style="list-style-type: none">a) bara de conexiune;b) bara longitudinală;c) bara transversală;
8	<p>Care dintre următoarele cauze provoacă la un sistem de direcție cu servomecanism hidraulic manevrarea greoaie a volanului atunci când acesta este acționat rapid?</p> <ul style="list-style-type: none">a) pompa nu debitează ulei suficient;b) jocuri prea strânse în angrenaje;c) geometria direcției dereglată;
9	<p>Ce măsuri se iau atunci când sunteți găsit circulând cu autocamionul având plăcile de înmatriculare deteriorate?</p> <ul style="list-style-type: none">a) o dată cu sancțiunea contravențională se rețin certificatul și plăcile de înmatriculare;b) se reține numai certificatul de înmatriculare;c) se rețin numai plăcile de înmatriculare până la remedierea acestora;
10	<p>Se interzice circulația pe drumurile publice a autovehiculului, dacă anvelopele:</p> <ul style="list-style-type: none">a) au presiunea necorespunzătoare;b) sunt de tipul “ fără cameră” ;c) prezintă tăieturi sau rupturi ale cordului;
11	<p>Ce rol are bobina de inducție?</p> <ul style="list-style-type: none">a) transformă curentul de joasă tensiune în curent de înaltă tensiune;b) transformă curentul alternativ în curent continuu;c) distribuie la bujii curentul de înaltă tensiune;