




CHESTIONARUL Nr. 5

1	<p>Dacă în zona de preselectie conducătorul s-a încadrat pe banda pe care este aplicat un marcaj pentru semnalizarea direcției de mers spre stânga, are dreptul să circule pe direcția înainte?</p> <p>a) da, deoarece cei care vor să schimbe direcția de mers spre stânga sau vor să meargă înainte trebuie să ocupe banda din stânga;</p> <p>b) nu; da, în intersecții dirijate;</p>
2	<p>Indicatorul alăturat interzice:</p>  <p>a) accesul tuturor autovehiculelor; b) accesul autovehiculelor destinate transporturilor speciale; a) accesul vehiculelor destinate transportului de mărfuri;</p>
3	 <p>Depășirea tramvaiului este regulamentară?</p> <p>a) nu, pentru că se execută înainte de o intersecție; b) nu, pentru că depășirea tramvaiului, în mers se face numai pe partea dreaptă; c) da, deoarece strada este cu sens unic, iar depășirea pe stânga în acest caz este posibilă</p>
4	<p>Indicatorul alăturat vă interzice:</p>  <p>a) accesul autovehiculelor cu remorcă, cu excepția celor cu semiremorcă sau remorcă pe o osie; b) accesul tuturor autovehiculelor cu remorcă; c) accesul tuturor autovehiculelor care tractează o semiremorcă sau o remorcă pe o osie;</p>
5	<p>Care este limita maximă de viteză, în afara localităților, pe celelalte categorii de drumuri pentru autovehiculele din categoria „C”, dacă conducătorul are mai puțin de un an practică în conducere?</p> <p>a) 70 km/h b) 60 km/h c) 50 km/h</p>

6	<p>Care din cauzele de mai jos determină jocul mare al volanului?</p> <ul style="list-style-type: none">a) presiunea scăzută în pneurile față;b) jocul mare al fuzetei pe pivot;c) unsoarea prea vâscoasă în articulațiile direcției;
7	<p>Care din următoarele defecțiuni creează joc mare la volan?</p> <ul style="list-style-type: none">a) uzura pronunțată a pneurilor roții directoare;b) uzura pronunțată a angrenajelor din caseta de direcție;c) uzura pronunțată a capetelor de bară;
8	<p>Rulând cu pneurile umflate peste presiunea prevăzută de uzina constructoare se produce:</p> <ul style="list-style-type: none">a) uzura mai accentuată pe creasta benzii de rulare;b) supraîncălzirea pneurilorc) mărirea aderenței la partea carosabilă;
9	<p>Emisia fumului de culoare neagră, în cazul motoarelor cu aprindere prin compresie, se datorează:</p> <ul style="list-style-type: none">a) uzurii segmentilorb) reglării necorespunzătoare a pompei de injecțiec) jocului mic dintre supape și culbutori;
10	<p>Se interzice circulația unui autovehicul din categoria „C” atunci când:</p> <ul style="list-style-type: none">a) motorul emite noxe;b) depășește împreună cu încărcătura, înălțimea de 2,30 m;c) plăcile de înmatriculare sunt murdare;
11	<p>Care din următoarele cauze duc la un consum mărit de combustibil?</p> <ul style="list-style-type: none">a) înfundarea jiglerelor și a pulverizatoarelor de combustibil;b) înfundarea orificiilor de alimentare cu combustibil de la camera de nivel constant;c) înfundarea filtrului de aer;